
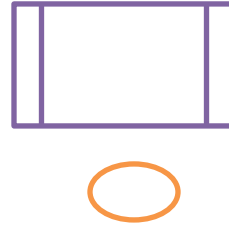
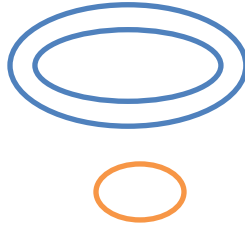
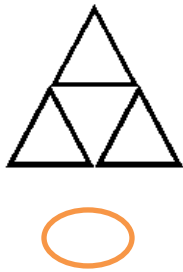


آزمون ریاضی تاریخ : / /

نام و نام خانوادگی : دبستان :



کدام شکل ها به قسم های مساوی تقسیم شده است ؟ علامت \times بگذار .



ص	د	ی
---	---	---

عددی سه رقمی بنویس که ۷ صدتایی و ۸ ده تایی داشته باشد . در جدول قرار بده

بارقم : باحروف :

عدد را در مربع قرار بده ، ده تا ده تا بشمار و جاهای خالی را پر کن .



..... - - - - - - -



با توجه به شکل رو به رو به سوالات زیر پاسخ بده .



شکل به قسمت مساوی تقسیم شده است .

..... قسمت از قسمت مساوی این شکل سیاه است .

..... قسمت از قسمت مساوی این شکل سفید است .



مسئله : کتاب داستان آروین ۲۳۰ صفحه دارد . او ۱۸۰ صفحه از کتاب داستانش را خوانده است . آروین چند صفحه از

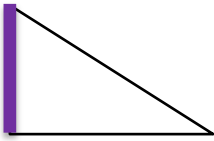
کتاب داستانش را نخوانده است ؟

قدّ دانیال ۱۲۹ سانتی متر و قدّ محمد ۱۳۱ سانتی متر است . قدّ هر دو نفر چند سانتی متر است ؟

در شمارش ۸ تا ۸ تا ، عدد بعد از ۲۴ چه عددی است ؟

- الف) ۱۶ ب) ۳۲ ج) ۲۸ د) ۴۰

در شکل رو به رو خطی که پررنگ شده است چه نام دارد ؟



- الف) ضلع ب) گوشه ج) تقارن د) نقطه

در یک کیسه ۸ مهره ی آبی و ۵ مهره ی قرمز انداخته ایم . اگر بدون این که به داخل کیسه نگاه کنیم یک مهره بیرون بیاوریم احتمال این که آن مهره آبی باشد بیشتر است یا قرمز ؟ چرا ؟

پارسا ربع ساعت صبحانه خورد و بعد از آن ۵ دقیقه مسواک زد . این دو کار او چند دقیقه طول کشیده است ؟

- الف) ۱۵ دقیقه ب) ۲۵ دقیقه ج) ۲۰ دقیقه د) ۳۰ دقیقه

بزرگترین عدد سه رقمی که یکان آن ۷ باشد . کدام عدد است ؟

- الف) ۹۷۸ ب) ۹۹۷ ج) ۷۸۹ د) ۸۹۷

عدد ۷۸ تقریباً به کدام عدد نزدیک تر است ؟

- الف) ۷۵ ب) ۸۰ ج) ۹۰ د) ۷۰

جمع و تفریق های زیر را به صورت کوتاه و گسترده پاسخ انجام بده .

گسترده (فرایندی)

$$\begin{array}{r} 1 \ 5 \ 4 \\ + 5 \ 9 \ 9 \\ \hline \end{array} \quad \begin{array}{r} 6 \ 6 \ 6 \\ - 5 \ 7 \ 8 \\ \hline \end{array}$$

کوتاه (تکنیکی)

$$\begin{array}{r} 4 \ 6 \ 6 \\ + 2 \ 3 \ 9 \\ \hline \end{array} \quad \begin{array}{r} 8 \ 1 \ 4 \\ - 3 \ 2 \ 3 \\ \hline \end{array}$$


کامل کن . ۳ سانتی متر و ۶ میلی متر برابر است با میلی متر .

هر کدام از اعداد زیر را به خانه ی مربوط به خود وصل کن .




- ۳۴۵ ۱۳۶ ۹۲
- ۴۱ ۶۷
- ۱۸

تعداد هر قسمت را با کامل کردن جاهای خالی مشخص کن .



..... تا تایی می شود




..... تا تایی می شود

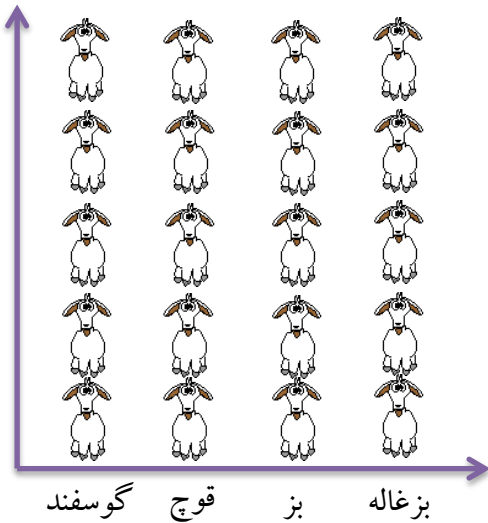


..... تا تایی می شود



آمار حیوانات موجود در یک مزرعه در جدول زیر آمده است . ابتدا تعداد تقریبی حیوانات را به دست آورده و جدول را کامل کن .

اگر هر ۱۰ حیوان را با  نشان دهیم . نمودار زیر را کامل کن . (رنگ بزن)



نام حیوان	گوسفند	قوچ	بز	بزغاله
تعداد حیوان	۴۶	۲۱	۳۸	۱۷
تعداد تقریبی				

بازخورد آموزگار :