

نوبت امتحانی: اول

نام خانوادگی:

نام درس: ریاضی

پایه: دوم

نام آموزشگاه:

۱- جاهای خالی را پر کنید.

۷ دسته ی ده تایی منهای ۴ دسته ی ده تایی می شود دسته ی ده تایی. $۷۰-۴۰=$

..... دسته ی ده تایی به اضافه دسته ی ده تایی می شود دسته ی ده تایی. $۵۰+۳۰=$

۲- حاصل جمع و تفریق هارا به دست آورید. (به سه روش)

$$\begin{array}{r} ۴۹ \\ + ۱۵ \\ \hline \end{array}$$

$$\begin{array}{r} ۹۵ \\ + ۸۴ \\ \hline \end{array}$$

۳- جواب جمع و تفریق هارا به صورت تقریبی به دست آورید.

$$\begin{array}{r} ۵۳ \rightarrow \\ + ۲۹ \rightarrow \\ \hline \end{array}$$

$$\begin{array}{r} ۶۸ \rightarrow \\ ۴۱ \rightarrow \\ \hline \end{array}$$

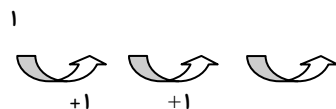
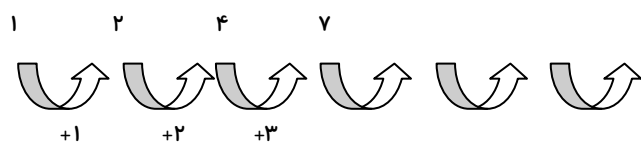
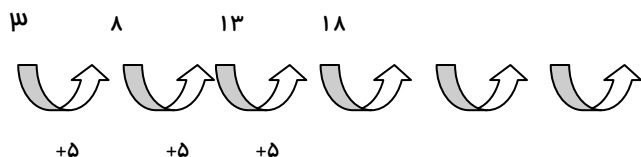
۴- جدول جمع و تفریق را کامل کن.

+	۵	۶	۷	۸	-	۶	۹
۵					۱۶		
۹					۱۹		

۵- مهدی ۲۶ دقیقه به نوار قرآن گوش داد و سپس ۱۷ دقیقه روان خوانی آن آیات را تمرین کرد. مهدی چند دقیقه برای

قرآن خواندن وقت گذاشته است؟

۶- سه عدد بعدی را بنویسید.

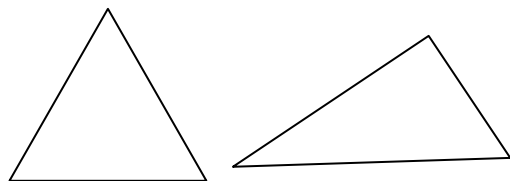


۷- بارقم های ۱۰۰۹۶ هر چند تا عدد دو رقمی می توانید بنویسید.

۹- تعداد ۹ دانش آموز در کلاس بودند ۷ دانش آموز دیگر به کلاس آمدند ولی ۵ نفر آنها از کلاس رفتند. حالا چند نفر در کلاس هستید؟

۹- ساعت ۲ است. ۲ ساعت و ربع دیگر چند است؟

۱۰- دو شکل زیر مثلث هستند چه تفاوت و شباهت هایی باهم دارند؟



تفاوت :

شباهت :

موفق باشید.